

**General Science Paper - I**  
**Sub: Physical Sciences**  
**(English Version)**

Time: 2½ hours

Max Marks:50

**Instructions:**

1. Answer the questions under part - A on a separate answer book.
2. Write the answer to the questions under part-B on the question paper itself and attach it to the answer book of part-A

---

Time: 2 hours

Max Marks:35

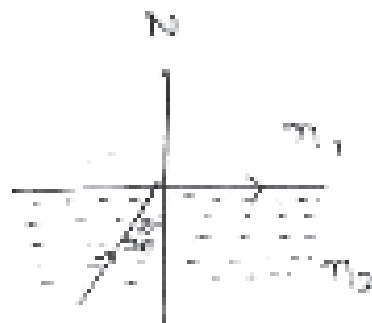
**Section - I**  
**Part-A**

5 × 2 = 10

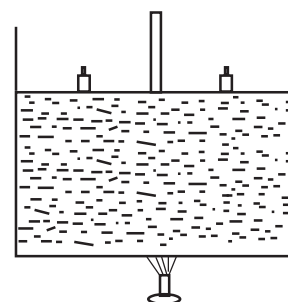
- Note:**
1. Answer any five questions choosing atleast two from each group.
  2. Each question carries two marks.

**Group - A**

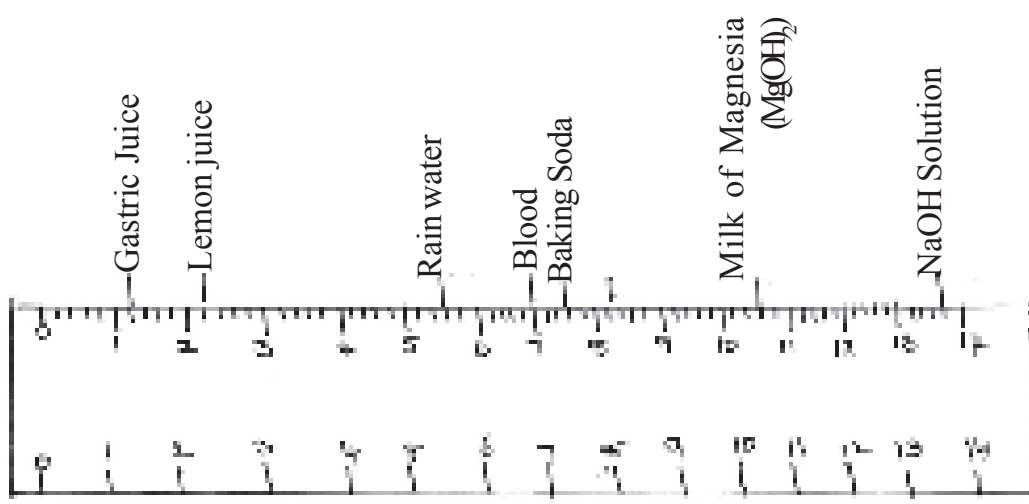
1. Look at the picture,
  - a) What is the refractive index of the denser medium.
  - b) Find the refractive index of denser medium with respect to rarer medium



2. Unpolished shoes appears dull, while polished shoes shines brightly guess the reason?
3. When an electron and a neutron are moving through uniform magnetic field with velocity 'v' perpendicular to the direction of magnetic field 'B'
  - a) Which particle deflects? Why?
  - b) What is the path of the deflected particle?
4. Consider a cylinder vessel containing water. A frictionless movable piston is arranged to the cylinder as shown in figure weights are placed on the piston . Heat the system.
  - a) When do you say that boiling process takes place?
  - b) Guess, what happens to boiling point when weights are increased?



5.



By observing the above pH scale, answer the following

- (i) Which of the body fluid have basic in nature
  - (ii) Is lemon juice a strong acid or weak acid?
  - (iii) Which of the above liquid have strong basic character?
  - (iv) What is the pH of distilled water? (As4)
6. Write the four quantum numbers for the electron that enters last in potassium atom? (AS1)
7. 'X' is an element O belongs to '3rd' period and 13th group then answer the following
- (i) Write the electron configuration of 'X'?
  - (ii) What is the valency of 'X'? (AS2)
8. How do you appreciate the role of Buck minister Pfullerin medicine ? (AS6)

## Section - II

4 × 1 = 4

**Note:** 1. Answer any four questions of the following.

2. Each question carries two marks.

9. Ekambaram is doing an experiment using mirrors to understand the concept of magnification. He identified the situation where the magnification is found to be greater than.
- a) What type of mirror is he used in this experiment?
  - b) What is type position of the object for the above situation?
10. What is the reason for using Tungsten as a filament in electric bulb?
11. When we are inside the water, we use goggle's to see the things clearly? Give reason?

## Chemistry

12. What are the compounds formed along with lead oxide when Lead Nitrate is heated? (AS1)
13. How do you appreciate the role of toothpaste in preventing the tooth decay? (AS6)
14. How can you support that Silicon is a metalloid?

### Section - III

$4 \times 4 = 16$

- Note:**
1. Answer any four questions choosing atleast two from each group.
  2. Each question carries four marks.

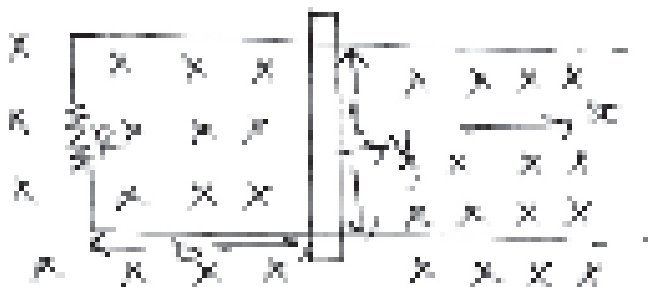
15. Observe the circuit and answer the following questions.

- a) Calculate the current flowing through ..... resistor?
- b) What is the current drawn from the battery?
- c) What is the emf of the battery?



16. Suresh can see the objects clearly which are beyond 3m. So he consulted the doctor and the doctor suggested him some lens.
- a) What type of eye defect he has?
  - b) What kind of lens, doctor suggested him to overcome the eye defect?
  - c) What is the focal length of the lens?

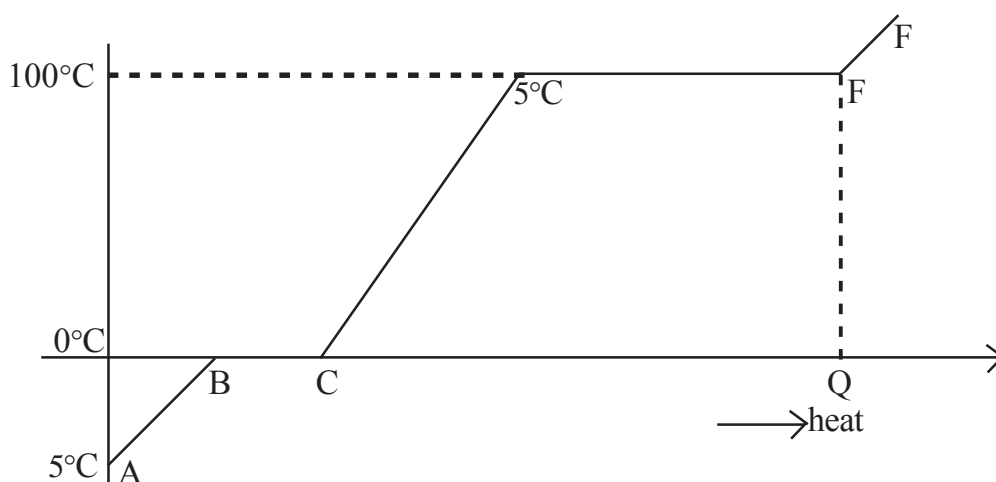
17.



Uniform magnetic field 'B' is acting vertically downwards as shown in figure. A circuit of unthreaded wire with resistance R is kept in the magnetic field. A conductor of length  $l$  is placed on the circuit and is moving in  $x$ -direction.

- a) If the conductor is moving in positive  $x$ -direction with velocity  $v$ , what is the change in flux in one second.
- b) What is magnitude and direction of current in the circuit?
- c) What is the power dissipation in the resistor?

18.



The graph given above shows that an ice of 1kg. at  $-5^{\circ}\text{C}$  is heated till it vaporises completely.

- What is the state of ice at C?
- What does the part DE in the graph represent? explain?
- What is the value of Q (heat energy) at E shown in graph?

### Group - B


- What are the rules to be followed while filling the electrons in atoms which contains more than one electron? How do you fill the electrons in degenerate orbitals, explain? (AS1)
- Guess the reasons why Ionic compound have more melting and Boiling points when compared to covalent compounds?
- Explain a chemical reaction to show the difference between Ethyl alcohol and Acetic Acid? (AS3)
- Sudheer has observed change of colour in pieces of apple after cutting and also rusting of iron for the iron gate at his home. What could be the reason for all these? Explain the same type of situations in our daily life? (AS6)

### Section - IV

$1 \times 5 = 5$

- Note:**
- Answer any one question of the following questions.
  - Each question carries five marks.

- As shown in figure, light ray incident on concave mirror. Using ray rules, construct reflected ray for a given incident ray (Don't use normal). Complete the diagram and explain the steps for getting the reflected ray.



- We know the ratio of Hydrogen and oxygen in water is 2:1, what type experimental arrangement you prefer in order to prove the above fact? Explain with diagram?

**General Science Paper - I**  
**Sub: Physical Sciences**  
**(English Version)**

Time: 2½ hours

Max Marks:50

---

**Part-B**

**5 × 2 = 10**

**Attach Part- B questions paper to the main answer book of part-A**

Time: 30 minutes

Marks:15

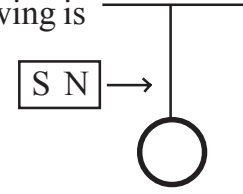
**Instructions:**

1. Answer all the questions.
2. Each question carries ½ marks.
3. Answers are to be written in the question paper only.
4. Marks will not be awarded in case of any over writing and rewriting or erased answers.

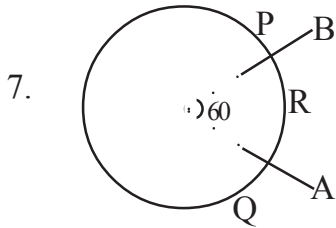
**I Write the capital letter showing the correct answer for the following questions in the brackets provided against them.**

1. 10g of ice at 0°C is mixed with 10g of water at 60°C the resultant temperature of the mixture is (consider the heat transfer between these two systems only) ( )  
A) -20°C                      B) -10°C                      C) 0°C                      D) 20°C
2. An object is kept at the distance of 10 cm from the mirror. If the object is moved 6cm towards the mirror then the difference in the distances of object and image in the two cases is ( )  
A) 8cm                      B) 4cm                      C) 10cm                      D) 16cm
3. Which of the following is not true for a biconvex lens ( )  
A) The focal length of biconvex lens is always positive  
B) The focal length of biconvex lens depends on material of the lens used and the medium in which it is kept.  
C) Biconvex lens can form both virtual and real images for real objects.  
D) It is used to correct hypermetropia
4. An real object is kept at 20 cm from the convex lens and its real image is found at 20cm only. What is the focal length of the lens. ( )  
A) 20cm                      B) 10cm                      C) 5cm                      D) 15cm
5. In an experiment Brahmanandam took 9cm thickness of glass slab, he calculated the vertical slab as 1cm. What is the refractive index of glass slab ( )  
A)  $\frac{9}{8}$                       B)  $\frac{8}{9}$                       C)  $\frac{4}{3}$                       D)  $\frac{9}{7}$

6. A coil is suspended from the ceiling as shown in the figure. A bar magnet is moving towards the coil then which of the following is not correct ( )



- A) With respect to bar magnet the direction of current in the coil is anti clock wise  
 B) The field due to coil is opposite to the field due to bar magnet  
 C) The current generated in the coil depends on the velocity of the bar magnet  
 D) The emf generated in the coil depends on the resistance of the coil



Let the resistance between P and Q is R. Find the equivalent resistance between A and B ( )

- A)                                  B)                                  C)                                  D)

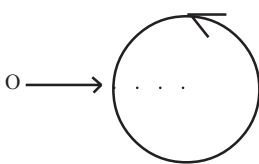
8. Which of the following is not true for refraction ( )

- A) During refraction frequency of light does not change.  
 B) When light ray moves from denser medium to rarer medium the angle of refraction is greater than angle of incidence  
 C) During refraction the light always bends at the interface of two medium  
 D) A fish in a pond appears closer than its original distance when viewed from top of the pond.

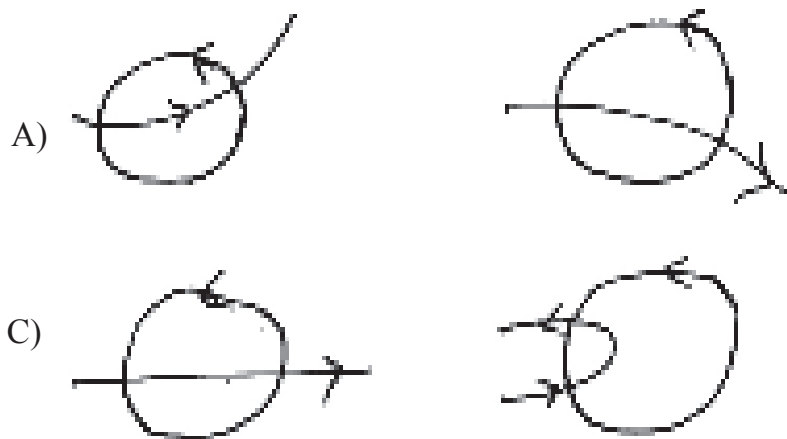
9. An iron box at  $60^{\circ}\text{C}$  contains  $\text{H}_2$  gas at  $30^{\circ}\text{C}$  initially which of the following is not true. ( )

- A) Heat flows from Iron box to gas  
 B) The heat lost by the iron depends on specific heats of iron and  $\text{H}_2$  gas and masses of the box and gas.  
 C) the system never comes to thermal equilibrium .  
 D) At thermal equilibrium the average kinetic energy of iron atom is equal to average kinetic energy of the hydrogen molecule.

- 10.



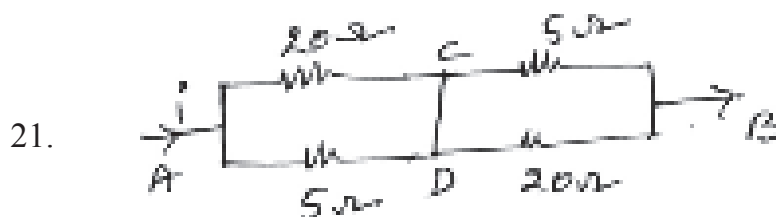
As shown in the figure an electron is projected perpendicular to the solenoid axis (gaps are available between the turns) The current in the solenoid is anti clock wise assume the magnetic field due to solenoid is uniform. Which of the following diagram is true. ( )



11.  $\text{CuSO}_4 + \text{Fe} \rightarrow \text{FeSO}_4 + \text{Cu}$ , equation indicates ( )  
 A) displacement B) decomposition  
 C) combination D) Double displacement
12.  $\text{NaHCO}_3$  means ( )  
 A) Baking Soda B) Washing Soda  
 C) Di Sodium Hydrogen Carbonate D) All the above
13. Magnetic quantum number values of 3d orbital ( )  
 A) -1, 0, +1 B) -2, -1, 0, +1, +2 C) 0 D) -3, -2, -1, 0, +1, +2+3
14. Element with atomic number '15' belongs to \_\_\_\_ block in periodic table ( )  
 A) S-block B) P-block C) d-block D) f-block
15. Nature of substance applied on skin when we stung honey bee \_\_\_\_ ( )  
 A) Strong acid B) Strong base C) Weak acid D) Weak base
16. Which method is useful to remove impurities from Zinc Blende \_\_\_\_ ( )  
 A) Hand Picking B) Wssing C) Froth floatation D) Magnetic Separation
17. Which among the following is an ore of sulphide \_\_\_\_ ( )  
 A) Carnalite B) Horn Silver C) Cinnabar D) Magnesite
18. During poting process while using green wood the released reducing gases prevent the metal from \_\_\_\_ ( )  
 A) Reduction B) Oxidation C) neutralisation D) liquation
19.  $\begin{array}{c} \text{CH}_2 - \text{CH} - \text{CHO} \\ | \quad | \\ \text{Cl} \quad \text{Cl} \end{array}$ , IUPAC Name of the compound is  
 A) Cyclo butane B) 2,3 - Di chloro propanal  
 C) 3, 2 Di chloro propanal D) 2 Chloro butanadehyde
20. Atomic weight of Beryllium is 9. Then equivalent weights ( )  
 A) 13.5 B) 9 C) 4.5 D) 2


Fill in the blanks with suitable answers each question carries  $\frac{1}{2}$  marks

$10 \times \frac{1}{2} = 5$  marks



The potential difference between C and D \_\_\_\_\_

22. The cause of RAINBOW is \_\_\_\_\_

23.  A biconvex lens of total length  $f$  is cut vertically as shown in the figure the focal length of each part in \_\_\_\_\_

24. A room temperature is  $27^\circ\text{C}$ . Its value in kelvin scale is \_\_\_\_\_

25. Cones is a Eye recognise \_\_\_\_\_

### Section - III

#### Match the Following

- |   |     |                               |
|---|-----|-------------------------------|
| 26. $\text{CaOCl}_2$                          | ( ) | a) Hydrated salt              |
| 27. $\text{CuSO}_4 \cdot 5\text{H}_2\text{O}$ | ( ) | b) first synthesized compound |
| 28. $\text{C}_6\text{H}_{10}$                 | ( ) | c) Rusting                    |
| 29. $\text{Fe}_2\text{O}_3$                   | ( ) | d) Bleaching power            |
| 30. $\text{NH}_2\text{CONH}_2$                | ( ) | e) Alkyne                     |
|   |     | f) Alkene                     |
|   |     | g) De hydrated salt.          |



**General Science Paper - I**  
**Sub: Physical Sciences**  
**(Telugu Version)**  
**Parts A & B**

Time: 2½ hours

Max Marks:50

**Instructions:**

1. Answer the questions under part - A on a separte answer book.
2. Write the answer to the questions under part-B on the question paper iteself and attach it to the answer book of part-A

Time: 2 hours

Max Marks:35

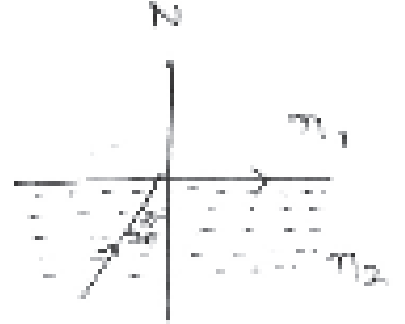
**Part-A**  
**Section - I**

5 × 2 = 10

- సూచనలు:
1. ప్రతి గ్రూపు నుండి రెండింటికి తక్కువ లేకుండా ఏవైనా ఐదు ప్రశ్నలకు సమాధానములు వ్రాయుము.
  2. ప్రతి ప్రశ్నకు రెండు మార్కులు

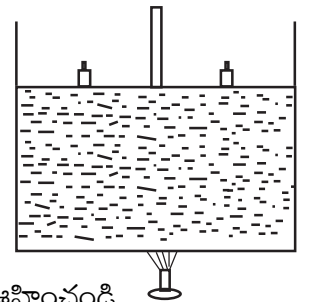
**Group - A**

1. ప్రక్క పటమును గమనించి ఈ కింది ప్రశ్నలకు జవాబులిమ్ము.
  - a) సాంద్రతర యానకంలో వక్రీభవన గుణకం ఎంత?
  - b) విరళ యానకం దృష్ట్యా సాంద్రతర యానకంలో వక్రీభవన గుణకమును కనుగొనుము

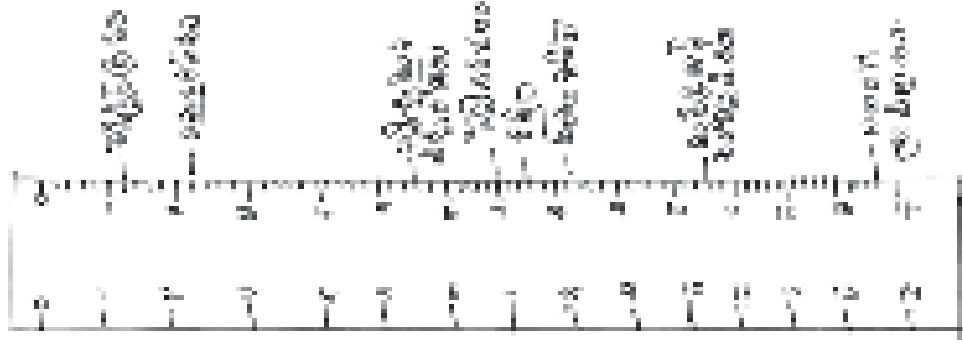


2. “పాలిష్ చేసినటువంటి బూటు మెరుస్తూ ఉంటుంది. కాని పాలిష్ చేయనటువంటి బూటు మెరవదు. కారణములు తెలుపుము.
3. ఒక సమ అయస్కాంత క్షేత్రంలోనికి ‘v’ వేగంతో మరియు అయస్కాంత క్షేత్రం ‘B’ కు లంబదిశలో ఒక ఎలక్ట్రాన్ మరియు ఒక న్యూట్రాన్లు చలిస్తూ ఉంటే
  - a) ఏ కణము అపవర్తనము చెందుతుంది? ఎందుకు?
  - b) అపవర్తనము చెందిన కణము యొక్క మార్గము ఏమిటి?

4. ఒక స్థూపాకార పాత్రలో కొంత నీటిని తీసుకొని నీటి ఉపరితలంపై ఒక ముసలకమును అమర్చి, దానిపై బరువులు ఉంచబడినవి. ఈ పాత్రను స్పిరిట్‌లాంప్‌తో వేడి చేస్తున్నాము.
  - a) ఎప్పుడు బాష్పీభవనము జరుగుతుంది?
  - b) ముసలకముపై బరువులను పెంచినపుడు బాష్పీభవనము ఏమౌతుందో ఊహించండి.



5.



పైన ఇవ్వబడిన pH స్కేలును గమనించి, క్రింది ప్రశ్నలకు జవాబులిమ్ము

- (i) క్షార స్వభావము కలిగిన మానవ శరీర ద్రవం ఏది?
  - (ii) నిమ్మరసము అనేది బలమైన ఆమ్లమా లేక బలహీనమైన ఆమ్లమా?
  - (iii) పైన ఇవ్వబడిన ద్రవములలో ఏవి బలమైన క్షార స్వభావము కలిగి ఉంటాయి.
  - (iv) స్వేదన జలము యొక్క pH విలువ ఎంత?
6. పొటాషియం పరమాణువులో చివరి కక్ష్యలో ప్రవేశించిన ఎలక్ట్రాన్ యొక్క నాలుగు క్వాంటం సంఖ్యల విలువలను వ్రాయండి?
7. 'X' అనే మూలకము 3వ పీరియడ్ మరియు 13వ గ్రూప్ కు చెందినది. క్రింది ప్రశ్నలకు జవాబులిమ్ము?
- (i) 'X' మూలకము యొక్క ఎలక్ట్రాన్ విన్యాసమును వ్రాయండి.
  - (ii) 'X' యొక్క వేలన్సీ ఎంత?
8. వైద్యరంగంలో బక్ మినిస్టర్ పుల్లరిన్ యొక్క పాత్రను ఎలా అభినందిస్తావు?

## Section - II

4 × 1 = 4

సూచనలు: 1. ఈ క్రింది వానిలో ఏవేని నాలుగు ప్రశ్నలకు సమాధానములు వ్రాయుము.

2. ప్రతి ప్రశ్నకు ఒక మార్కు.

9. ఏకాంబరమ్ అనే వృక్షి దర్పణములను ఉపయోగించి ఆవర్ధనము పై ప్రయోగములు చేసినాడు. ఆ ప్రయోగాలలో 1 కంటే ఎక్కువ ఉండే ఆవర్ధనముల సందర్భములను గుర్తించినాడు.
  - a) ఈ ప్రయోగము అతను ఉపయోగించిన దర్పణములు ఏ రకమునకు చెందినవి?
  - b) పై సందర్భంలో వస్తువు యొక్క స్థానము ఎట్లా ఉంటుంది?
10. ఎలక్ట్రిక్ బల్బులో టంగ్స్టన్ ఫిలమెంట్ ను వాడుటకు గల కారణము ఏమి?
11. మనము నీటిలో ఉన్నప్పుడు వస్తువులను స్పష్టంగా చూడటానికి కళ్ళద్దాలను వాడతారు? ఎందుకు?
12. లెడ్ వైట్రేట్ ను వేడిచేసినప్పుడు లెడ్ ఆక్సైడ్ తోపాటు ఏర్పడే సమ్మేళనములు ఏవి?

13. దంతక్షయాన్ని నివారించుటకోసం టూత్ పేస్ట్ యొక్క పాత్రను ఏ విధంగా అభినందిస్తావు?
14. సిలికాన్ ఒక అర్ధలోహం, దీనిని నీవు ఎలా సమర్థిస్తావు?

### Section - III

4 × 4 = 16

- సూచనలు: 1. ప్రతి గ్రూపు నుండి రెండేసి ప్రశ్నలకు తగ్గకుండా నాలుగు ప్రశ్నలకు సమాధానాలు వ్రాయండి.  
2. ప్రతి ప్రశ్నకు నాలుగు మార్కులు.

15.

పై వలయమును గమనించి క్రింది ప్రశ్నలకు జవాబులిమ్ము


- a) 4ను ల నిరోధములో ప్రవహించు కరెంటును లెక్కించుము.  
b) బ్యాటరీలో ఉండే కరెంటు విలువ ఎంత?  
c) బ్యాటరీ యొక్క emf విలువ ఎంత?



16. సురేష్ 3 మీ. కంటే ఎక్కువ దూరంలో ఉండే వస్తువులను స్పష్టంగా మాత్రమే చూడగలడు. ఇతడు డాక్టరును సంప్రదించగా డాక్టర్ సురేష్ కు కొన్ని రకాల కటకములను వాడమని సలహానిచ్చాడు.

- a) సురేష్ ఏరకమైన దృష్టి లోపమును కలిగి ఉన్నాడు?  
b) దృష్టిలోపమును నివారించుటకు డాక్టర్ అతనికి ఏ రకమైన కటకములను వాడమని సలహా ఇచ్చెను.  
c) ఆ కటకముల నాభ్యంతరము ఎంత ఉండును?

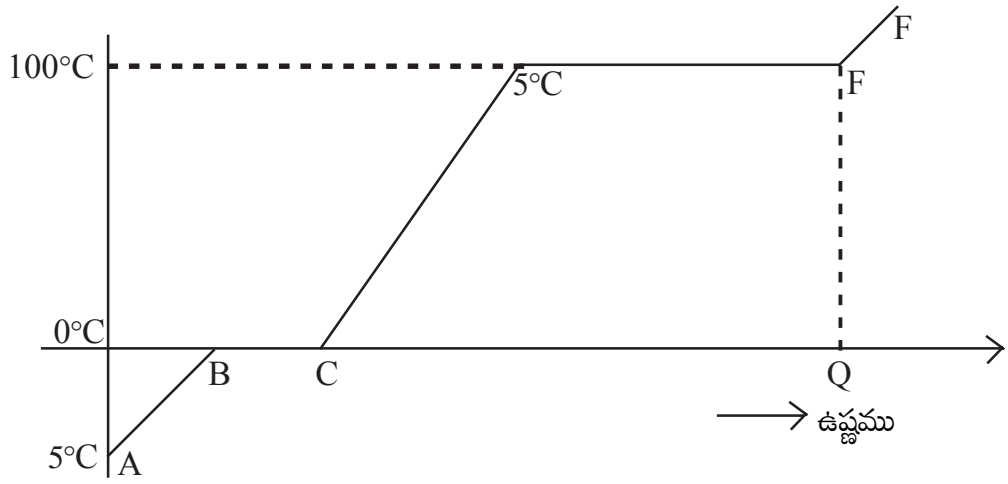
17.



పటంలో చూపిన విధంగా లంబంగా దిగువకు పనిచేసే సమరీతి అయస్కాంత క్షేత్రం 'B' పని చేస్తుంది. దీనిలో నిరోధం 'R' తో ఒక వలయాన్ని ఏర్పాటుచేసి, దానిపై / పొడవు గల వాహకాన్ని ఉంచారు. దీనిని x-దిశలో ఎటువైపు అయిన కదలవచ్చు..

- a)  $v$ , స్థిర వడితో కుడివైపు x-దిశలో కదిలిస్తే, వాహక కొనల మధ్య విద్యుచ్ఛాలకబలం ఎంత?  
b) విద్యుత్ ప్రవాహ దిశను తెల్పి, దానికి గల కారణాన్ని తెల్పండి?  
c) ఆ విద్యుత్ విలువ ఎంత?

18.



పై గ్రాఫ్ను గమనించండి.

- మంచు, నీరుగా మారే భాగం ఏది?
- గ్రాఫ్లో చూపిన DE భాగం ఏమై ఉంటుంది? వివరించుము.
- గ్రాఫ్లో చూపిన E వద్ద గల ఉష్ణశక్తి Q విలువ ఎంత ఉండును?

### Group - B

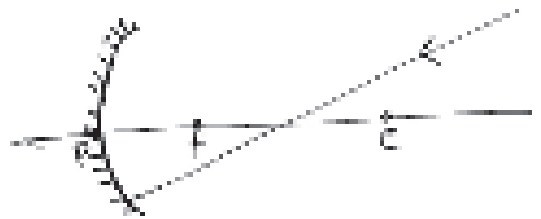
- ఒకటి కంటే ఎక్కువ ఎలక్ట్రాన్లు గల పరమాణువులలో ఎలక్ట్రాన్ల అమరికను వివరించుటకు ఉపకరించే నియమాలేవి? వాటితో సమశక్తి ఆర్బిటాళ్ళలో ఎలక్ట్రాన్ల అమరిక ఏ నియమం ఆధారంగా జరుగుతుందో సోదాహరణంగా వివరించండి?
- అయానిక సమ్మేళనాలు, సంయోజనీయ సమ్మేళనాలతో పోల్చినపుడు అధిక ద్రవీభవన మరియు బాష్పీభవన స్థానాలు కలిగి ఉండుటకు కారణాలను ఊహించండి.
- ఇథైల్ ఆల్కహాల్, ఎసిటిక్ ఆమ్లాల మధ్య బేధాన్ని చూపించే ఒక రసాయన చర్యను వివరించండి?
- నిజ జీవితంలో చేతితో ఏరివేయడం, నీటితో కడగడం వంటి ప్రక్రియలు ఏ సందర్భాలలో వాడుతారు? లోహాన్ని సాంద్రీకరించడంలో వీటిని ఎలా పోలుస్తారు?

### Section - IV

1 × 5 = 5

- సూచనలు: 1. ఈ క్రింది వానిలో ఏదేని ఒక దానికి సమాధానం వ్రాయండి.  
2. ప్రతి ప్రశ్నకు ఐదు మార్కులు.

- ప్రక్క పటాన్ని గమనించండి. కిరణ చిత్ర నియమాల ఆధారంగా పరావర్తన కిరణాన్ని ఎలాగీస్తారో పట సహాయంతో వివరించండి.



- నీటిలో హైడ్రోజన్ మరియు ఆక్సిజన్ల నిష్పత్తి 2:1 అని మనకు తెలుసు. ఈ విషయాన్ని నిరూపించడానికి నీవు ఎటువంటి ప్రయోగము చేస్తావో పట సహాయమున వివరించండి.

**General Science Paper - I**  
**Sub: Physical Sciences**  
**(Telugu Version)**  
**Part A & B**

Time: 2½ hours

Max Marks:50

Part-B

5 × 2 = 10

Attach Part- B questions paper to the main answer book of part-A

Time: 30 minutes

Marks:15

**Instructions:**

1. అన్ని ప్రశ్నలకు జవాబులు రాయండి.
2. ప్రతి ప్రశ్నకు ½ మార్కు.
3. సమాధానములను ప్రశ్నాపత్రములోనే వ్రాయవలెను.
4. దిద్దబడిన మరియు చెరిపివేయబడిన సమాధానములకు మార్కులు వేయబడవు.

I ఈ క్రింది ప్రశ్నలకు సరియైన సమాధానములు ఎన్నుకొని దానిని తెలిపే అక్షరమును (A, B, C, D) బ్రాకెట్లలో పెద్ద అక్షరములతో (CAPITAL LETTERS) వ్రాయండి.

1. 0°C వద్దగల 10 గ్రాముల మంచును 10 గ్రాముల నీరు 60°C కు కలుపగా ఫలిత ఉష్ణోగ్రత ఎంత?  
(ఈ రెండు వ్యవస్థల మధ్య మాత్రమే ఉష్ణమార్పిడి జరిగినదని భావించవలెను) ( )  
A) -20°C      B) -10°C      C) 0°C      D) 20°C
2. ఒక వస్తువు సమతల దర్పణము నుండి 10 సెం.మీ. దూరములో ఉంచబడినది. దానిని అచ్చటనుండి దర్పణము వైపుకు 6 సెం.మీ. కదిలించబడినది. ఈ రెండు సందర్భాలలోని వస్తుప్రతిబింబముల మధ్య బేద దూరము. ( )  
A) 8cm      B) 4cm      C) 10cm      D) 16cm
3. ద్వికుంభాకార కటకములలో ఈ క్రింది వానిలో నిజము కానిది ( )  
A) ద్వికుంభాకార కటకము నాభ్యంతరము ఎల్లప్పుడు ధనాత్మకం  
B) ద్వికుంభాకార కటకము యొక్క నాభ్యంతరము కటక తయారీకి వాడిన పదార్థము మీద, దానిని ఉంచబడిన యానకము మీద ఆధారపడుతుంది.  
C) నిజవస్తువుతో ద్వికుంభాకార కటకము నిజ, మిథ్యా ప్రతిబింబములను ఏర్పరచును.  
D) దీర్ఘ దృష్టి (Hypermetropia) నివారణకు ద్వికుంభాకార కటకమును వాడుతారు.

4. కుంభాకార కటకము నుండి 20 సెం.మీ. దూరములో నిజవస్తువును ఉంచితే నిజప్రతిబింబము కూడా 20 సెం.మీ. వద్ద ఏర్పడింది. ఈ కుంభాకార కటక నాభ్యంతరము ఎంత? ( )

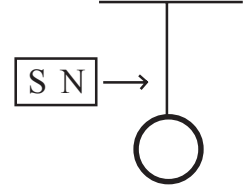
- A) 20cm                      B) 10cm                      C) 5cm                      D) 15cm

5. 9 సెం.మీ. మందముగల గాజుపలకను ఉపయోగించి బ్రహ్మానందము ప్రయోగము చేయునప్పుడు అతనికి నిలువు విస్తాపనం 1 సెం.మీ. గా గమనించాడు. గాజుపలక వక్రీభవన గుణకము. ( )

- A)  $\frac{9}{8}$                       B)  $\frac{8}{9}$                       C)  $\frac{4}{3}$                       D)  $\frac{9}{7}$

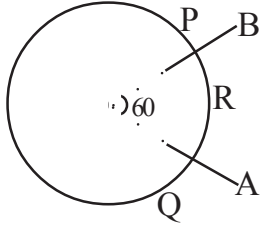
6. పటములో చూపిన విధంగా ఒక తీగ చుట్ట సీలింగుకు వ్రేలాడదీయబడినది. ( )

ఒక దండయస్కాంతమును తీగచుట్ట వైపుకు కదల్చినారు. ఈ క్రింది విషయములలో ఏది నిజము



- A) దండయస్కాంత పరంగా తీగచుట్టలో అపసవ్య దిశలో విద్యుత్ ప్రవహిస్తుంది.  
 B) తీగచుట్టలోని క్షేత్రం దండయస్కాంత క్షేత్రమునకు వ్యతిరేఖము  
 C) తీగచుట్టలో ఏర్పడిన ప్రేరిత విద్యుత్ ప్రవాహము దండయస్కాంత వేగము మీద ఆధారపడుతుంది.  
 D) తీగచుట్టలోని విద్యుత్చాలక బలము తీగచుట్ట నిరోధము మీద ఆధారపడి ఉంటుంది.

7.



P, Q, ల మధ్య నిరోధము R అయితే A, B ల మధ్య ఫలిత నిరోధము ఎంత? ( )

- A)  $\frac{5R}{6}$                       B)  $\frac{6R}{5}$                       C) 6R                      D)  $\frac{7R}{6}$

8. వక్రీభవనము దృష్ట్యా ఈ క్రింది వానిలో నిజము కానిది ( )

- A) వక్రీభవనము జరుగునప్పుడు కాంతి పౌనఃపున్యము మారదు.  
 B) కాంతి సాంద్రతర యానకము నుండి విరళయానకము లోనికి ప్రయాణించునప్పుడు వక్రీభవన కోణము పతన కోణము కన్నా ఎక్కువ.  
 C) వక్రీభవనము జరుగునప్పుడు యానకములు వేరుచేయు తలము వద్ద కాంతి వంగి ప్రయాణం చేస్తుంది.  
 D) చెరువులోని పైనుండి చేపను చూసినప్పుడు దాని నిజదూరము కంటే తక్కువ దూరములో కన్పిస్తుంది.

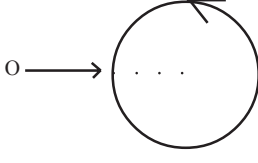
9. 60°C వద్ద గల ఇస్త్రీ పెట్టెను 30°C వద్ద గల H<sub>2</sub> వాయువులో ఉంచబడినది. ఈ క్రింది వానిలో నిజము కానిది ఏది? ( )

- A) ఇస్త్రీపెట్టి నుండి వాయువు వైపుకు ఉష్ణము సరఫరా అవుతుంది.  
 B) ఇస్త్రీపెట్టె నష్టపోయే ఉష్ణము ఇస్త్రీపెట్టె విశిష్టోష్ణము మరియు H<sub>2</sub> వాయువు, మరియు ఇస్త్రీపెట్టె మరియు H<sub>2</sub> వాయువు, మరియు ఇస్త్రీపెట్టె మరియు H<sub>2</sub> వాయువు ద్రవ్యరాశుల మీద ఆధారపడును.

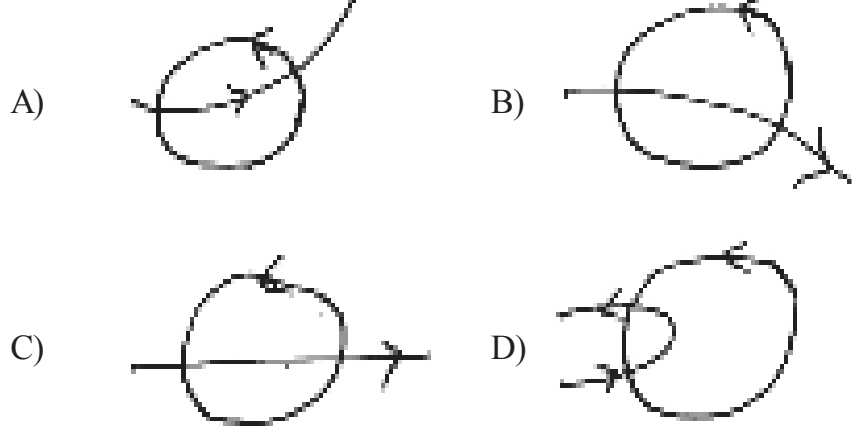
C) ఈ వ్యవస్థ ఎప్పటికప్పుటికి ఉష్ణ సమతాస్థితికి రాదు

D) ఇస్ట్రీపెట్టె (ఇనుము) లోని పరమాణువుల, సరాసరి గతిజశక్తి  $H_2$  వాయువు పరమాణుల సరాసరి గతిశక్తి సమానము అయినప్పుడు వ్యవస్థ ఉష్ణ సమతాస్థితికి వచ్చును.

10.



సోలినాయిడ్ అక్షమునకు లంబంగా పటములో చూపిన విధంగా ఎలక్ట్రిక్ ను ప్రతిక్షేపించబడినది. సోలినాయిడ్ లో విద్యుత్ అపసవ్య దిశలో ప్రవహిస్తుందని సోలినాయిడ్ లో ఏకరీతి అయస్కాంత క్షేత్రము ఉన్నదని భావించబడితే ఈ క్రింది వానిలో ఏది నిజము? ( )



11.  $CuSO_4 + Fe \rightarrow FeSO_4 + Cu$ , అనే ఈ సమీకరణం ఈరకం చర్యను సూచిస్తుంది. ( )

A) స్థానభ్రంశం B) వియోగం C) సంయోగం D) ద్వివియోగం

12.  $NaHCO_3$  అనగా ( )

A) బేకింగ్ సోడా B) వాషింగ్ సోడా C) సోడియం హైడ్రోజన్ కార్బోనేట్ D) అన్నీ

13. 3d ఆర్బిటాల్ యొక్క అయస్కాంత క్యాంటం విలువలు ( )

A) -1, 0, +1 B) -2, -1, 0, +1, +2 C) 0 D) -3, -2, -1, 0, +1, +2+3

14. పరమాణు సంఖ్య '15' గా గల మూలకం ఆవర్తన పట్టికలో ఏ బ్లాక్ కు చెందును. ( )

A) S- బ్లాక్ B) P- బ్లాక్ C) d- బ్లాక్ D) f- బ్లాక్

15. తేనెటీగ కుట్టినప్పుడు పూతగా రాసే పదార్థ స్వభావం \_\_\_\_ ( )

A) బలమైన ఆమ్లం B) బలమైన క్షారం C) బలహీనమైన ఆమ్లం D) బలహీనమైన క్షారం

16. జింక్ బ్లెండ్ నుండి ఖనిజ మాలిన్యాన్ని తొలగించుటకు అనువైన పద్ధతి \_\_\_\_ ( )

A) చేతితో ఏరివేయుట B) నీటితో కడగడం  
C) ప్లవన ప్రక్రియ D) అయస్కాంత వేర్పాటు పద్ధతి

17. ఈ క్రింది వానిలో సల్ఫైడ్ ధాతువు \_\_\_\_ ( )

A) కార్బులైట్ B) హార్న్ సిల్వర్ C) సిన్నబార్ D) మాగ్నెటైట్

18. పోలింగ్ ప్రక్రియలో పచ్చికర్రలను ఉపయోగించినపుడు కర్రలనుండి వెలువడిన క్షయకరణ వాయువులు లోహాన్ని ఏ ప్రక్రియకు గురికాకుండా కాపాడుతాయి \_\_\_\_\_ ( )

- A) క్షయకరణం      B) ఆక్సీకరణం      C) తటస్థీకరణం      D) స్వేదనం




19.  $\begin{array}{c} | \\ Cl \\ | \\ Cl \end{array}$  సమ్మేళనం యొక్క IUPAC పేరు

- A) సైక్లోబ్యూటీన్      B) 2,3 - డై క్లోరో ప్రొపనాల్  
C) 3, 2 - డై క్లోరో ప్రొపనాల్      D) 2 - క్లోరో బ్యూటనాల్ డిహైడ్రైడ్

20. బెరీలియం పరమాణుభారం 9. అయిన బెరీలియం తుల్యాంక భారము ( )

- A) 13.5      B) 9      C) 4.5      D) 2

ఈ క్రింది ఖాళీలను సరియైన పదాలతో పూరించండి. ప్రతి ప్రశ్నకు  $\frac{1}{2}$  మార్కు  $10 \times \frac{1}{2} = 5$  marks



పై వలయంలో C, D బిందువుల మధ్య పొటన్షియల్ భేదము \_\_\_\_\_

22. కాంతి యొక్క \_\_\_\_\_ ఇంద్రధన్వు విర్బడుతుంది అని చెప్పవచ్చు.

23. ద్వికుంభాకార కటకము నాభ్యంతరము  $f$ . దీనిని ప్రధానాక్షమునకు లంబంగా రెండు సమభాగాలు చేస్తే ఒక్కొక్క భాగము యొక్క నాభ్యంతరము \_\_\_\_\_

24. గది ఉష్ణోగ్రత  $27^\circ C$ . అయితే కెల్విన్ మానములో దాని విలువ \_\_\_\_\_

25. కంటిలోని శంఖువులు \_\_\_\_\_ గుర్తిస్తాయి.

### జతపరచటం

26.  $CaOCl_2$  ( ) a) ఆర్థలవణం  
27.  $CuSO_4 \cdot 5H_2O$  ( ) b) మొట్టమొదటి క్రుత్రిమ సమ్మేళనం  
28.  $C_6H_{10}$  ( ) c) తుప్పు  
29.  $Fe_2O_3$  ( ) d) బ్లీచింగ్ పౌడర్  
30.  $NH_2CONH_2$  ( ) e) ఆల్బైన్  
f) ఆల్మీన్  
g) అనార్థ లవణం